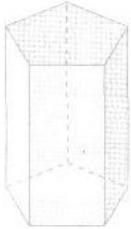


Escola: _____

Professor: _____ Turma: _____ Turno: _____

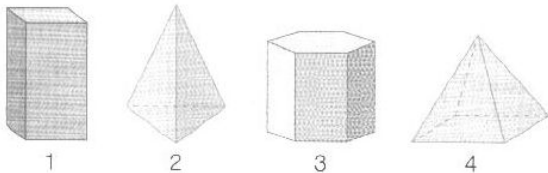
Aluno: _____

1. Quantas são as arestas do prisma da figura?



- a) 15
- b) 10
- c) 5
- d) 8

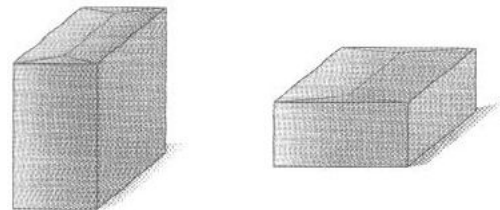
2. Juliana foi comprar cristais, e o vendedor lhe mostrou alguns de diferentes formas:



Ela se decidiu por duas pirâmides. Os cristais escolhidos foram:

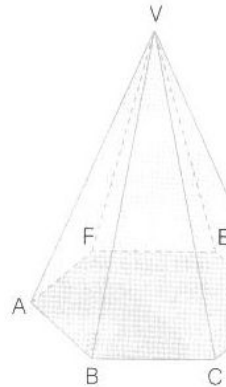
- a) 1 e 2
- b) 2 e 3
- c) 2 e 4
- d) 3 e 4

3. Andréia colocou um decalque em cada face de duas caixas de papelão, até mesmo nas faces que ficam apoiadas sobre a mesa. O total de decalques que Andréia usou foi:



- a) 12
- b) 10
- c) 8
- d) 6

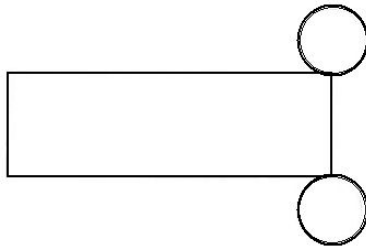
4. Quantos são os vértices da pirâmide da figura?



- a) 5
- b) 6
- c) 7
- d) 8

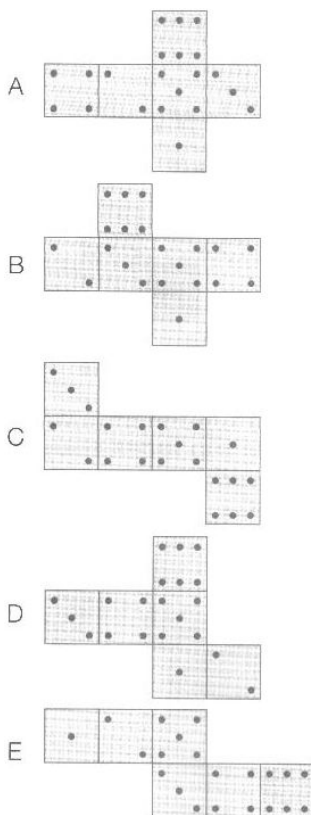
5. Qual é o sólido geométrico correspondente a esta planificação?

<http://www.desafiosmate.com.br/blog>



- a) prisma
- b) pirâmide
- c) cilindro
- d) cone

6. As figuras a seguir representam cinco planificações de um cubo.



Levando-se em conta que em um dado a soma dos pontos marcados nas faces opostas é 7, qual a figura que representa a planificação correta?

- a) A
- b) B
- c) C e D
- d) E

7. O gráfico mostra quanto da Floresta Amazônica já havia sido destruído em 1970, 1975, 1980, etc.



* Resposta:

- a) Em 1975, quantos quilômetros quadrados já haviam sido destruídos? 100.000
- b) E em 1990? Quantos já haviam sido destruídos?
- c) Em 1996, qual a área que a floresta havia perdido?
- d) Essa área foi perdida em 26 anos, de 1970 até 1996. Em média, quantos quilômetros quadrados a floresta perdeu por ano?
- e) Em 1996, quanto restava da área da floresta?

8. Em 1997 a revista Veja publicou uma edição especial sobre a Amazônia. A revista disse que desejava alertar para o perigo que está correndo essa jóia do patrimônio natural do Brasil. E disse mais: o conjunto de reportagens visa mostrar por que a Amazônia é vital para o país e o planeta, e como ela está sendo arrasada.

* Você concorda com as opiniões da revista? Qual é sua opinião?

9. Dei três notas de 5 reais e, de troco, recebi duas notas de 1 real e mais 50 centavos. Calcule mentalmente e responda: quanto custou o que comprei?

<http://www.desafiosmate.com.br/blog>

Gabarito

1.a

2.c

3.c

4.b

5.b

6.a

7.a) 100.000 km b) 400.000 c) 600.000 d)1.300.000 e) 10.000

8. sua opinião

9.13,50

[Pacote de Slides de Matemática e outros – CLIQUE AQUI](#)

[Materiais gratuitos de para Concurso – CLIQUE AQUI](#)

[Planilha de Avaliações Descritores – CLIQUE AQUI](#)

<http://www.desafiosmate.com.br/blog>