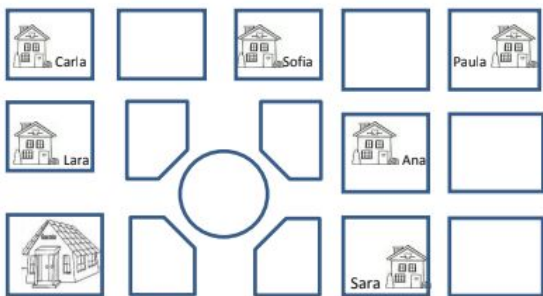


Escola: \_\_\_\_\_  
Professor: \_\_\_\_\_ Turma: \_\_\_\_\_ Turno: \_\_\_\_\_  
Aluno: \_\_\_\_\_

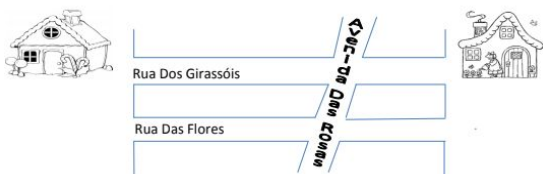
1. Carla fez o desenho de algumas ruas de seu bairro, próximas à sua casa. Localizou sua casa e marcou-a com seu nome. Localizou também a casa de 3 amigas e marcou-as com o nome de cada uma e de sua escola. Veja abaixo o que ela fez.



A casa que fica mais distante a escola de Carla é a da amiga:

- a) Ana
- b) Sara
- c) Paula
- d) Sofia

2. As ruas Do Girassol e Das Flores ligam a casa de Mara e Lara. A avenida das Rosas corta as ruas. No mapa abaixo, estão representadas essas ruas e avenida.



Quais delas são paralelas?

- a) Avenida das Rosas e Rua Dos Girassóis.

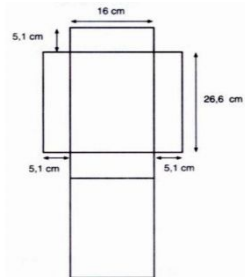
- b) Rua Dos Girassóis e Rua Das Flores.
- c) Rua Das Flores e avenida das Rosas.
- d) Rua Das Flores, Rua Dos Girassóis e avenida Das Rosas.

Leia as informações e analise as embalagens a seguir.

As embalagens são projetadas segundo as necessidades do fabricante. No caso de uma embalagem para se colocar cereal em flocos, geralmente ela tem o formato de um prisma e é confeccionada de papelão. Analise uma dessas embalagens e sua planificação.



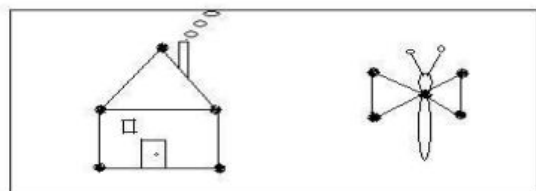
Fonte da imagem: Site cidademarketing.com.br  
Acesso 23/05/2011



Esta embalagem se refere ao um prisma:

- a) Prisma Quadrangular.
- b) Prisma Pentagonal.
- c) Prisma Triangular.
- d) Prisma Retangular.


4. Luiz usou linhas retas fechadas para fazer este desenho.



- a) 1

- b) 3
- c) 4
- d) 5


5. Paula fez o seguinte desenho.



Quantos retângulos aparece neste desenho.

- a) 6
- b) 4
- c) 2
- d) 0

6. Leia a charada feita pelo menino Maluquinho ao Bocão.



Qual a resposta correta para essa charada.

- a) O chumbo.
- b) O algodão.
- c) Os dois.
- d) Nenhum dos dois.

7. Sara, Paulo e Davi estão participando de uma mini maratona que tem um percurso total de 20 km, falta apenas 5 km para cruzarem a linha de chegada para saber quem será o vencedor. Esse percurso que resta em metros

corresponde a:

- a) 5 metros
- b) 50 metros
- c) 500 metros
- d) 5 000 metros

8. Paula e Kátia foram ao cinema assistir a um filme e no cartaz diz: "Abertura da sala – 10h00 e início da sessão 11h00". A diferença da abertura da sala para o início da sessão corresponde a:

- a) 10 minutos
- b) 60 minutos
- c) 110 minutos
- d) 100 minutos

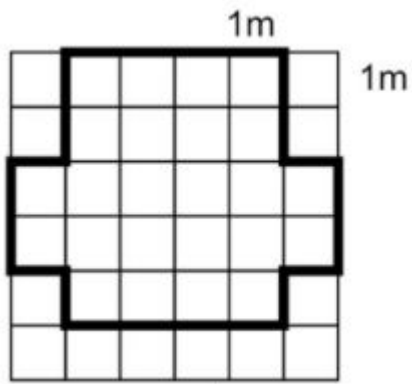
9. Num domingo, quatro crianças se conectaram a internet. Veja o quadro com as informações pedidas.

Nome	Horário do início da conexão	Horário do final da conexão	Tempo gasto na internet
Henrique	7:35	8:25	50 minutos
Daniilo	12:15	13:45	90 minutos
Lúcio	13:50	16:05	2 horas e 15 minutos
Marcos	9:35	12:30	2 horas e 55 minutos

O tempo que Marcos ficou a mais que Lúcio na internet é de:

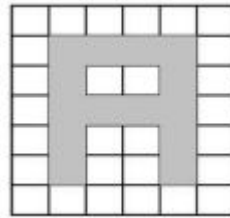
- a) 20 minutos
- b) 25 minutos
- c) 30 minutos
- d) 40 minutos

10. Observe a malha quadriculada abaixo. Cada lado do quadrinho mede 1 metro.



- a) 10
- b) 11
- c) 20
- d) 22

11. Observando esse papel quadriculado verificamos a área da palavra "A" que é igual a:



- a) 10
- b) 12
- c) 14
- d) 16

GABARITO

- 1.c
- 2.b
- 3.d
- 4.b
- 5.a
- 6.c
- 7.d
- 8.b
- 9.d
- 10.d
- 11.c

<http://desafiosmate.com.br/>

[Pacote de Slides de Matemática e outros – CLIQUE AQUI](#)

[Materiais gratuitos de para Concurso – CLIQUE AQUI](#)

[Planilha de Avaliações Descritores – CLIQUE AQUI](#)